

แบบฝึกทักษะคณิตศาสตร์

ชั้นประถมศึกษาปีที่ 2 เรื่อง การนับลดและการหาร

ชื่อ.....นามสกุล.....เลขที่.....ได้คะแนน.....

\*\*\*\*\*

จงเติมตัวเลขลงใน  ให้ถูกต้อง

1. มีมะนาว 14 ผล แบ่งใช้วันละ 7 ผล ใช้กี่วันจึงจะหมด

มีมะนาว 14 \_ ผล

แบ่งใช้วันที่ หนึ่ง 7 ผล

เหลือ  ผล

แบ่งใช้วันที่ สอง 7 ผล

เหลือ  ผล

ดังนั้น มะนาว 14 ผล แบ่งใช้วันละ 7 ผล ใช้  วันจึงจะหมด

นั่นคือ  $14 \div 7 = \text{$

2. มีกระดาษ 18 แผ่น แบ่งใช้วันละ 9 แผ่น ใช้กี่วันจึงจะหมด

มีกระดาษ 18 \_ แผ่น

แบ่งใช้วันที่ หนึ่ง 9 แผ่น

เหลือ  แผ่น

แบ่งใช้วันที่ สอง 9 แผ่น

เหลือ  แผ่น

ดังนั้น กระดาษ 18 แผ่น แบ่งใช้วันละ 9 แผ่น ใช้  วันจึงจะหมด

นั่นคือ  $18 \div 9 = \text{$

แบบฝึกทักษะคณิตศาสตร์  
ชั้นประถมศึกษาปีที่ 2 เรื่อง การนับลดและการหาร

ชื่อ.....นามสกุล.....เลขที่.....ได้คะแนน.....


\*\*\*\*\*

จงเติมตัวเลขลงใน  ให้ถูกต้อง

1. มีดอกไม้อยู่ 10 ดอกนับลดทีละสอง  ครั้งจึงจะหมดพอดี



2. มีดาวอยู่ 8 นับลดทีละสี่  ครั้งจึงจะหมดพอดี



3. มีรองเท้าอยู่ 6 ข้าง นับลดทีละคู่  ครั้งจึงจะหมดพอดี



4. มีลูกโป่ง อยู่ 12 ใบ นับลดทีละสี่  ครั้งจึงจะหมดพอดี



5. มีไข่อยู่ 50 ฟอง แบ่งกินสี่ปาด้าละ 10 ฟอง  กินก็ครั้งจึงจะหมดพอดี



แบบฝึกทักษะคณิตศาสตร์  
ชั้นประถมศึกษาปีที่ 2 เรื่อง การนับลดและการหาร

ชื่อ.....นามสกุล.....เลขที่.....

\*\*\*\*\*

จงเติมตัวเลขลงใน  ให้ถูกต้อง

1. นับลดทีละ 3

15    12    9            0

2. นับลดทีละ 4

20    16    12            0

3. นับลดทีละ 7

35    28    21            0

4. นับลดทีละ 6

30    24    18            0

5. นับลดทีละ 9

45    36    27            0

แบบฝึกทักษะคณิตศาสตร์

ชั้นประถมศึกษาปีที่ 2 เรื่อง การนับลดและการหาร

ชื่อ.....นามสกุล.....เลขที่.....

\*\*\*\*\*

คำชี้แจง ให้เขียนประโยคสัญลักษณ์และหาคำตอบ

ตัวอย่าง มีลูกแก้ว 28 ลูก แบ่งให้เพื่อนคนละ 4 ลูก จะแบ่งให้เพื่อนได้กี่คน

ประโยคสัญลักษณ์  $28 \div 4 = \square$

ตอบ 7 คน

1. มีตุ๊กตา 28 ตัว แบ่งให้เด็กคนละ 7 ตัว จะแบ่งให้เด็กได้กี่คน

ประโยคสัญลักษณ์ .....

ตอบ .....

2. มีส้ม 20 ผล จัดใส่ถาด ถาดละ 5 ผล จะได้กี่ถาด

ประโยคสัญลักษณ์ .....

ตอบ .....

3. มีอมยิ้ม 30 อัน แบ่งให้เด็กคนละ 6 อัน จะได้กี่คน

ประโยคสัญลักษณ์ .....

ตอบ .....

4. มีแอปเปิ้ล 42 ผล จัดใส่ถุง ถุงละ 6 ผล จะได้กี่ถุง

ประโยคสัญลักษณ์ .....

ตอบ .....

5. มีกระท้อน 45 ผล จัดใส่ถุง ถุงละ 9 ผล จะได้กี่ถุง

ประโยคสัญลักษณ์ .....

ตอบ .....

แบบฝึกทักษะคณิตศาสตร์

ชั้นประถมศึกษาปีที่ 2 เรื่อง การนับลดและการหาร

ชื่อ.....นามสกุล.....เลขที่.....

\*\*\*\*\*

คำชี้แจง ให้เขียนประโยคสัญลักษณ์และหาคำตอบ


1. มีดอกไม้ 15 ดอก แบ่งจัดแจกัน 3 แจกันเท่า ๆ กัน จะได้แจกันละกี่ดอก



ประโยคสัญลักษณ์  $15 \div 3 = \square$

ตอบ ..... ดอก





2. มีส้ม 24 ผล จัดเป็นกอง 4 กอง เท่า ๆ กัน จะได้กองละกี่ผล



ประโยคสัญลักษณ์ .....

ตอบ \_\_\_\_\_ ผล

3. มีแมลงเต่าทอง 25 ตัว จัดเป็นกลุ่ม กลุ่มละ 5 ตัว จะได้กี่กลุ่ม



ประโยคสัญลักษณ์ .....

ตอบ ..... กลุ่ม

4. มีกรรไกร 16 อัน ให้เด็ก 4 คน คนละเท่า ๆ กันจะได้คนละกี่อัน



ประโยคสัญลักษณ์ .....

ตอบ ..... อัน

5. มีลูกโป่ง 30 ลูก จัดเป็นกลุ่ม กลุ่มละ 5 ลูก จะได้กี่กลุ่ม



ประโยคสัญลักษณ์ .....

ตอบ ..... อัน

แบบฝึกทักษะคณิตศาสตร์  
ชั้นประถมศึกษาปีที่ 2 เรื่อง การนับลดและการหาร

ชื่อ.....นามสกุล.....เลขที่.....

\*\*\*\*\*

คำชี้แจง ให้เขียนประโยคสัญลักษณ์และหาคำตอบ

ตัวอย่าง มีมะละกอ 28 ลูก จัดใส่ตะกร้า 7 ลูก ตะกร้าละเท่า ๆ กัน แต่ละ

ตะกร้าจะมีมะละกอกี่ลูก

ประโยคสัญลักษณ์  $28 \div 7 = \square$

ตอบ 4 ลูก

1. มีไอศกรีม 30 แท่ง นำไปแจกเด็กที่ได้รับรางวัลการแข่งขันคณิตศาสตร์ 5 คน คนละเท่า ๆ กัน แต่ละคนจะได้รับแจกไอศกรีมคนละกี่แท่ง

ประโยคสัญลักษณ์ .....

ตอบ .....แท่ง

2. แม่มีดอกกุหลาบ 27 ดอก จัดเป็นกำ กำละ 3 ดอก เพื่อนำไปถวายพระ พระจะได้รับดอกกุหลาบกี่รูป

ประโยคสัญลักษณ์.....

ตอบ .....รูป

3. นารีมีเงิน 30 บาท แบ่งใช้วันละ 5 บาท กี่วันจึงจะหมด

ประโยคสัญลักษณ์ .....

ตอบ .....วัน

4. มียางลบ 40 ก้อน จัดใส่กล่อง กล่องละ 6 ก้อนจะได้กี่กล่อง

ประโยคสัญลักษณ์.....

ตอบ.....กล่อง

5. พรีซื้อลูกชิ้นมา 10 ไม้ แบ่งให้เพื่อนคนละ 2 ไม้จะต้องแบ่งให้เพื่อนกี่คน

ประโยคสัญลักษณ์.....

ตอบ.....คน

แบบฝึกทักษะคณิตศาสตร์

ชั้นประถมศึกษาปีที่ 2 เรื่อง ความสัมพันธ์ระหว่างการคูณกับการหาร

ชื่อ.....นามสกุล.....เลขที่.....

\*\*\*\*\*

คำชี้แจง ให้เติมคำตอบลงในช่องว่างให้ถูกต้อง

$$\begin{aligned} 3 \times 5 &= \dots\dots\dots \\ 15 \div 3 &= \dots\dots\dots \\ 15 \div 3 &= \dots\dots\dots \end{aligned}$$

$$\begin{aligned} 2 \times 9 &= \dots\dots\dots \\ 18 \div 2 &= \dots\dots\dots \\ 18 \div 9 &= \dots\dots\dots \end{aligned}$$

$$\begin{aligned} 3 \times 7 &= \dots\dots\dots \\ 21 \div 3 &= \dots\dots\dots \\ 21 \div 7 &= \dots\dots\dots \end{aligned}$$

$$\begin{aligned} 6 \times 4 &= \dots\dots\dots \\ 24 \div 4 &= \dots\dots\dots \\ 24 \div 6 &= \dots\dots\dots \end{aligned}$$

$$\begin{aligned} 6 \times 4 &= \dots\dots\dots \\ 24 \div 4 &= \dots\dots\dots \\ 24 \div 6 &= \dots\dots\dots \end{aligned}$$



แบบฝึกทักษะคณิตศาสตร์

ชั้นประถมศึกษาปีที่ 2 เรื่อง ความสัมพันธ์ระหว่างการคูณกับการหาร

ชื่อ.....นามสกุล.....เลขที่.....

\*\*\*\*\*

คำชี้แจง ให้เติมตัวเลข ลงใน  ให้ถูกต้อง

1.  $6 \times 8 = \square$   
 $\square \div 6 = \square$   
 $\square \div 8 = \square$

2.  $7 \times 9 = \square$   
 $\square \div 7 = \square$   
 $\square \div 9 = \square$

3.  $8 \times 4 = \square$   
 $\square \div 8 = \square$   
 $\square \div 4 = \square$

4.  $9 \times 5 = \square$   
 $\square \div 9 = \square$   
 $\square \div 5 = \square$

5.  $2 \times 6 = \square$   
 $\square \div 2 = \square$   
 $\square \div 6 = \square$

6.  $3 \times 9 = \square$   
 $\square \div 3 = \square$   
 $\square \div 9 = \square$

7.  $5 \times 10 = \square$   
 $\square \div 5 = \square$   
 $\square \div 10 = \square$

8.  $4 \times 5 = \square$   
 $\square \div 4 = \square$   
 $\square \div 5 = \square$

แบบฝึกทักษะคณิตศาสตร์  
ชั้นประถมศึกษาปีที่ 2 เรื่อง การหารที่เหลือเศษ

ชื่อ.....นามสกุล.....เลขที่.....

\*\*\*\*\*

คำชี้แจง ให้หาผลหารและเศษ แล้วตรวจคำตอบ

ตัวอย่าง

$$29 \div 4 = 7 \text{ เศษ } 1$$

ตอบ ๗ เศษ ๑

ตรวจคำตอบ  $(7 \times 4) + 1 = 29$

1.  $38 \div 4 = \square$  เศษ  $\square$

ตอบ  $\square$  เศษ  $\square$

ตรวจคำตอบ .....

2.  $67 \div 7 = \square$  เศษ  $\square$

ตอบ  $\square$  เศษ  $\square$

ตรวจคำตอบ .....

3.  $47 \div 5 = \square$  เศษ  $\square$

ตอบ  $\square$  เศษ  $\square$

ตรวจคำตอบ .....

4.  $34 \div 4 = \square$  เศษ  $\square$

ตอบ  $\square$  เศษ  $\square$

ตรวจคำตอบ .....

แบบฝึกทักษะคณิตศาสตร์  
ชั้นประถมศึกษาปีที่ 2 เรื่อง การหารที่เหลือเศษ

ชื่อ.....นามสกุล.....เลขที่.....

\*\*\*\*\*

คำชี้แจง ให้หาผลหารและเศษ แล้วตรวจคำตอบ

ตัวอย่าง  $7 \div 3 = \square$

ตอบ ๒ เศษ ๑

ตรวจคำตอบ

$$(2 \times 3) + 1 = 7$$

แสดงว่าคำตอบถูกต้อง

1.  $9 \div 2 = \square$

ตอบ.....

ตรวจคำตอบ

.....  
.....

2.  $12 \div 5 = \square$

ตอบ.....

ตรวจคำตอบ

.....  
.....

3.  $48 \div 7 = \square$

ตอบ.....

ตรวจคำตอบ

.....  
.....


แบบฝึกทักษะคณิตศาสตร์  
ชั้นประถมศึกษาปีที่ 2 เรื่อง โจทย์ปัญหาการหาร

ชื่อ.....นามสกุล.....เลขที่.....

\*\*\*\*\*

คำชี้แจง ให้เขียนประโยคสัญลักษณ์ และหาคำตอบ

1. มีลูกโป่ง 15 ลูก แบ่งให้เด็ก 5 คน คนละเท่าๆ กันจะได้คนละกี่ลูก



ประโยคสัญลักษณ์ .....

ตอบ .....

2. มีดอกไม้ 27 ดอก จัดใส่แจกัน แจกันละ 6 ดอก ได้กี่แจกัน และเหลือดอกไม้กี่ดอก



ประโยคสัญลักษณ์ .....

ตอบ .....

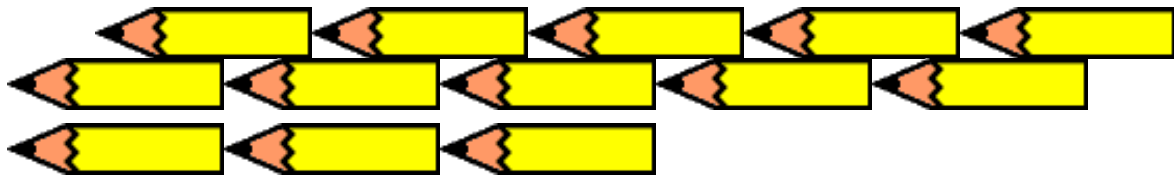


1. มีไข่ 55 ฟอง จัดใส่ตะกร้า ตะกร้าละ 10 ฟอง  
จะต้องใช้ตะกร้ากี่ใบ

ประโยคสัญลักษณ์ .....

ตอบ .....

5. แจกดินสอ 13 แท่งให้เด็ก 6 คน คนละเท่า ๆ กัน จะได้คนละกี่แท่ง เหลือกี่แท่ง



ประโยคสัญลักษณ์ .....

ตอบ .....

6. มีขนม 30 ชิ้น จัดใส่จาน จานละ 5 ชิ้น จะได้กี่จาน



ประโยคสัญลักษณ์ .....

ตอบ .....

7. มีขบวนพาเหรดอยู่ 27 คน จัดเป็นแถว แถวละ 9 คน จะได้กี่แถว



ประโยคสัญลักษณ์ .....

ตอบ .....